



ממלכת ישראל = גויבראן

תל שבע 84950



טל' 08-6469963 פקס : 08-6900246

مدرسة جبران الابتدائية

ص.ب. 6 , تل السبع 84950


هاتف: 08-6469963

فكس : 690024608



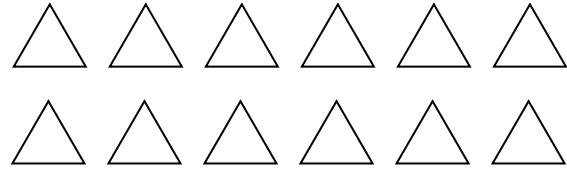

اعزائي عَليكم نسخ الأسئلة على الدفتر والاجابة عليها وبعد ذلك تصويرها وارسالها لي في الخاص :

لَوْنِ قِسمِ منِ المِجموعةِ حسبِ الكِسرِ المُعطىِ واكتبِ الكميةِ الملائمةِ للكِسرِ :




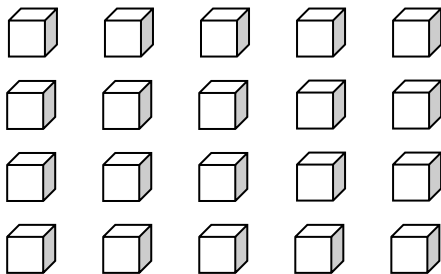
$\frac{2}{5}$ الدوائر يساوي _____ دوائر

$\frac{4}{6}$ النجوم يساوي _____ نجوم



$\frac{7}{10}$ الهلالات يساوي _____ هلالا

$\frac{2}{3}$ المثلثات يساوي _____ مثلث



$\frac{3}{10}$ المُكعبات يساوي _____ مُكعبًا

$\frac{3}{4}$ القلوب يساوي _____ قلبًا