



בית ספר ממלכתי יסוד=גיבראן  
ת.ד 6 , תל שבע 84950

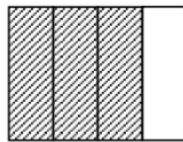
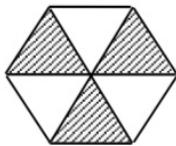
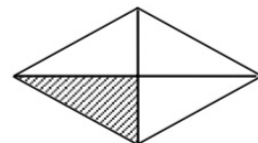
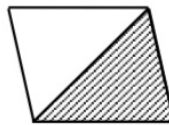
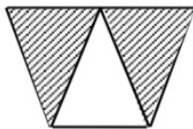
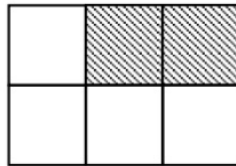
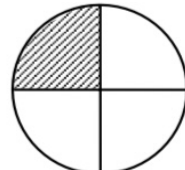
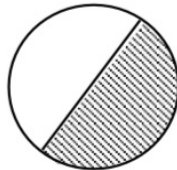
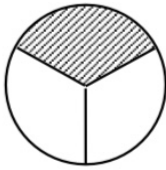


מدرسة جبران الابتدائية  
ص.ب 6 , تل السبع 84950  
هاتف: 08-6469963



تَعَلَّمْنَا فِي الدرس السابق عَن الكسور البسيطة ، عَلَيكُمْ نسخ الاسئلة على دفتر  
والإجابة عَلَيْهَا ، وَبَعْد ذَلِكَ تصويرها وإرسالها لي على الخاص ، الرَّجَاء المُشارَكة  
مِنَ الجَمِيع.

1. أكتب أسم الكسرتحت كل شكل من الأشكال الآتية :





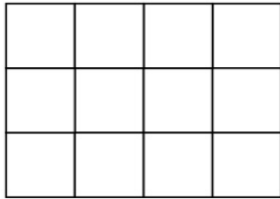
בית ספר ממלכתי יסוד=גיבראן  
ת.ד 6 , תל שבע 84950



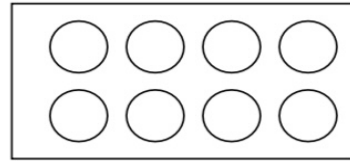
مدرسة جبران الابتدائية  
ص.ب 6 , تل السبع 84950  
هاتف: 08-6469963




2. لون حسب الطلب:



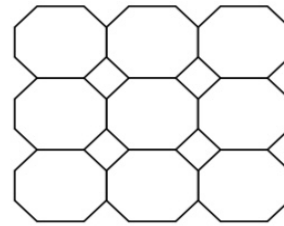
$$\frac{3}{4}$$




$$\frac{1}{2}$$




$$\frac{3}{4}$$



$$\frac{2}{3}$$



$$\frac{1}{4}$$



$$\frac{2}{5}$$